



موقع اجاباتكم

Google

للمزيد اكتب
في جوجل



موقع اجاباتكم

**موقع اجاباتكم التعليمي يوفر كل ما يحتاجه الطالب
والمعلم من حلول الكتب توزيع المنهج. اختبارات
نهائية وفترية ملخصات. أوراق عمل والكثير**

ملزمة وأوراق عمل مادة العلوم

الصف الرابع الابتدائي
الفصل الدراسي الثاني

الاسم :

الفصل :



الوحدة الثالثة (صحة الإنسان)
الفصل الرابع (الأمراض والعدوى)

الفكرة العامة :-

(كيف يتم اكتشاف الأمراض)



ملاحظة	☹️	😊	معايير التقييم
			صحة الإجابات
			جمال الخط
			سرعة الإنجاز

ملاحظات المعلم / ة

.....
.....
.....
.....

الفصل الرابع الدرس الأول (الأمراض)

التاريخ : / / ١٤٤٦ هـ

أ) نصل بين الصورة وما يناسبها :-

السكري

السمنة

فقر الدم

الإنفلونزا

أمراض معدية

أمراض غير معدية

ب) تحت كل صورة فيما يلي نكتب أسم المرض :-



.....

.....

.....

.....

ما الذي يسبب لنا الأمراض ؟ 😊

.....



تابع الدرس الأول (الأمراض)

التاريخ : / / ١٤٤٦ هـ

أ) نصل العمود (أ) بما يناسبه من (ب) :-

(أ)		(ب)
١ - المرض	عدوى فيروسية تصيب الرنتين والشعب الهوائية
٢ - الأنفلونزا	مرض بكتيري عادة ما ينتشر عن طريق شرب الماء الملوث
٣ - القدم الرياضي	طفح جلدي معدي يصيب القدم
٤ - الكوليرا	حالة غير طبيعية تؤثر على جسم المخلوق الحي

ب) كيف أعرف أنني مصاب بمرض ؟



- ١ -
- ٢ -
- ٣ -



الدرس الثاني (العدوى وانتقالها)

التاريخ : / / ١٤٤٦ هـ

أ) من خلال الصور التالية نحدد نواقل المرض :-



ب) نختار الإجابة الصحيحة فيما يلي :-

١- طعم يتكون من أجسام تمنحك مناعة طبيعية من مرض معين .

الخلايا

التطعيم

الحماية

٢- الخلايا التي تهاجم مسببات المرض .

خلايا الدم البيضاء

خلايا دموية

خلايا الدم الحمراء

٣- هي قدرة الجسم على التصدي لمسببات الأمراض .

المرض

المناعة

العدوى

الفصل الخامس الدرس الأول (المحافظة على الصحة)

التاريخ : / / ١٤٤٦ هـ

أ) نلخص :-

السلوكيات اليومية
التي تعزز
الصحة الجيدة

- ١-
- ٢-
- ٣-

ب) هل العبارات التالية صحيحة أم خاطئة :-

- ١- من العادات غير الصحيحة شرب الماء . ()
- ٢- الرياضة تقوي عضلات الجسم . ()
- ٣- يحتاج الجسم إلى ٨ ساعات من النوم ليلاً . ()

ج) نضع إشارة صح تحت الصورة التي تمثل غذاء صحي ؟



.....

.....

الدرس الثاني (الغذاء والتغذية)

التاريخ : / / ١٤٤٦ هـ

أ) مجموعة المواد الغذائية :-



ب) نصل عناصر الغذاء بالصورة المناسبة :-



دهون

لحوم ولبان

خضروات

خبز وحبوب

كيف يكون غذوانا صحياً؟ 😊?

.....

الوحدة الرابعة (الأرض ومواردها)
الفصل السادس (موارد الأرض)

الفكرة العامة :-

(ما بعض موارد الأرض ؟ وكيف نحافظ عليها)



ملاحظة	☹️	😊	معايير التقييم
			صحة الإجابات
			جمال الخط
			سرعة الإنجاز

ملاحظات المعلم / ة

.....
.....
.....
.....



الدرس الأول (المعادن والصخور)

التاريخ : / / ١٤٤٦ هـ

أ) نكمل العبارة :-

* المسحوق الذي ينتج عن حك المعدن بقطعة خزفية يسمى (.....)

ب) مثالا لكل من :-

- ١- صخور نارية ←
- ٢- صخور رسوبية ←
- ٣- صخور متحولة ←

ج) هل العبارات التالية صحيحة أم خاطئة :-

- ١- المعدن هو مادة طبيعية غير حية توجد في قشرة الأرض (.....)
- ٢- الصخور والمعادن من موارد الأرض (.....)





تابع الدرس الأول (المعادن والصخور)

التاريخ : / / ١٤٤٦ هـ

خصائص المعادن



١) الصخور والمعادن من :-

- * موارد الأرض
- * موارد مصنعة
- * مستورد

٢) صخر متحول شائع الاستخدام :-

- * الجرانيت
- * الرخام
- * الفحم

٣) صخر صلب نارى يقاوم التجوية والتعرية :-

- * الحجر الجيري
- * الألماس
- * الجرانيت





الدرس الثاني (الماء)

التاريخ : / / ١٤٤٦ هـ

أ) نختار الإجابة الصحيحة فيما يلي :-

١- يحتوي على كمية كبيرة من الأملاح وغير صالح للشرب .

المطر

البنر

البحر

٢- معظم ماء الأرض يكون عادة في الحالة .

الصلبة

الغازية

السائلة

٣- المياه التي تتجمع في الفراغات بين الصخور .

الأنهار

الجوفية

العذبة

ب) نضع كل كلمة فيما يلي في المكان المناسب :-

الري

البنر

محطات التقنية

المضخات

- ١- ثقب يحفر في الأرض للوصول للمياه الجوفية .
- ٢- الآلات تحتاجها الآبار للوصول للمياه للسطح .
- ٣- عملية توصيل الماء إلى التربة الزراعية .
- ٤- مكان يستخدم لتقنية الماء والتأكد من سلامته .

الوحدة الخامسة (الفضاء)
الفصل السابع (النظام الشمسي والفضاء)

الفكرة العامة :-

(ما الأجرام السماوية التي توجد في النظام الشمسي ؟)



ملاحظة	☹️	😊	معايير التقييم
			صحة الإجابات
			جمال الخط
			سرعة الإنجاز

ملاحظات المعلم / ة

.....
.....
.....
.....



الدرس الأول (الأرض والشمس والقمر)

التاريخ : / / ١٤٤٦ هـ

أ) ما الذي يسبب الليل والنهار :-



.....
.....

ب) نكمل الفراغات بما يناسبها :-

٢٤ ساعة

الأرض

المدار

المحور

- ١- كوكب يدور حول نفسه
- ٢- خط حقيقي أو وهمي يدور حول الجسم
- ٢- دورة الأرض اليومية تتم في
- ٤- هو المسار الذي يسلكه الجسم المتحرك حول جسم آخر

؟ 😊 ماذا ينتج عن دوران الأرض حول محورها ؟

.....





تابع الدرس الأول (الأرض والشمس والقمر)

التاريخ : / / ١٤٤٦ هـ

أ) نختار الإجابة الصحيحة فيما يلي :-

١- مدة دوران القمر حول الأرض هي ٢٥ يوم .

خطأ

صح

٢- أطوار القمر هي أشكال ظاهرية للقمر أثناء دورانه حول الأرض .

خطأ

صح

٣- القمر جسم .

مضيء

معتم

٤- تحدث الفصول الأربعة بسبب .

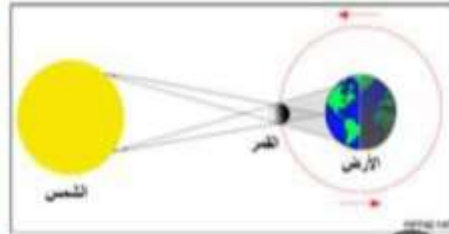
دوران الأرض
حول الشمس

دوران الأرض
حول محورها

ب) ماذا تمثل الصورة :-

أ الخسوف

ب الكسوف





الدرس الثاني (النظام الشمسي)

التاريخ : / / ١٤٤٦ هـ

أ) نصل المجموعة (أ) بما يناسبها من (ب) :-

(أ)		(ب)
١ - النظام الشمسي	كتلة كبيرة من الجليد والصخور تدور حول الشمس
٢ - الكوكب	الشمس وجميع الأجرام التي تدور حولها
٣ - المذنب	جرم كروي كبير يدور حول الشمس

ب) نختار الإجابة الصحيحة فيما يلي :-

١ - أكبر الكواكب في المجموعة الشمسية .

الأرض

المشتري

٢ - تقع في حزام بين المريخ والمشتري .

الكويكبات

الشهب

ما أهمية الشمس؟ 😊

.....





الدرس الثاني (النظام الشمسي)

التاريخ : / / ١٤٤٦ هـ

أ) نقارن حسب المطلوب :-

الكواكب الغازية	الكواكب الصخرية
١-	١-
.....
٢-	٢-
.....

ب) من خلال الصور التالية نستنتج كيف ندرس النظام الشمسي ؟ :-



.....



ملزمة وأوراق عمل

مادة العلوم

الحلول

الصف الرابع الابتدائي

الفصل الدراسي الثاني

الاسم:

الفصل:



الوحدة الثالثة (صحة الإنسان)
الفصل الرابع (الأمراض والعدوى)

الفكرة العامة :-

(كيف يتم اكتشاف الأمراض)



ملاحظة	☹️	😊	معايير التقييم
			صحة الإجابات
			جمال الخط
			سرعة الإنجاز

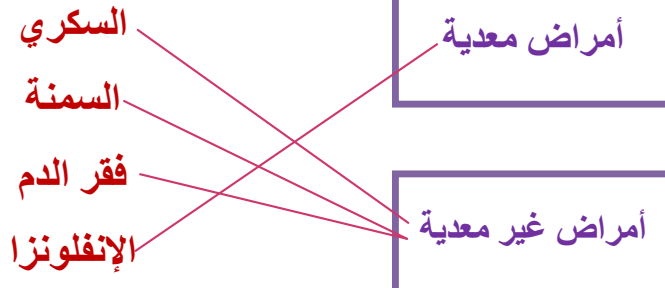
ملاحظات المعلم / ة

.....
.....
.....
.....

الفصل الرابع الدرس الأول (الأمراض)

التاريخ : / / ١٤٤٤ هـ

أ) نصل بين الصورة وما يناسبها :-



ب) تحت كل صورة فيما يلي نكتب أسم المرض :-



.....السكري.....

.....السمنة.....

.....الفطريات.....

.....الانفلونزا.....

ما الذي يسبب لنا الأمراض؟

.....ضعف المناعة. وعوامل خارجية وداخلية. في الجسم.....

تابع الدرس الأول (الأمراض)

التاريخ : / / ١٤٤٤ هـ

أ) نصل العمود (أ) بما يناسبه من (ب) :-

(أ)		(ب)
١- المرض	٢	عدوى فيروسية تصيب الرئتين والشعب الهوائية
٢- الأنفلونزا	٤	مرض بكتيري عادة ما ينتشر عن طريق شرب الماء الملوث
٣- القدم الرياضي	٣	طفح جلدي معدي يصيب القدم
٤- الكوليرا	١	حالة غير طبيعية تؤثر على جسم المخلوق الحي

ب) كيف أعرف أنني مصاب بمرض ؟



- ١- ارتفاع درجة الحرارة
- ٢- احتقان الحلق
- ٣- الصداع

الدرس الثاني (العدوى وانتقالها)

التاريخ : / / ١٤٤٤ هـ

أ) من خلال الصور التالية نحدد نواقل المرض :-



مخلوقات ناقلة للأمراض



مخالطة مصاب..



..هواء ملوث....



...طعام ملوث..

ب) نختار الإجابة الصحيحة فيما يلي :-

١- طعم يتكون من أجسام تمنحك مناعة طبيعية من مرض معين .

الخلايا

التطعيم

الحماية

٢- الخلايا التي تهاجم مسببات المرض .

خلايا الدم البيضاء

خلايا دموية

خلايا الدم الحمراء

٣- هي قدرة الجسم على التصدي لمسببات الأمراض .

المرض

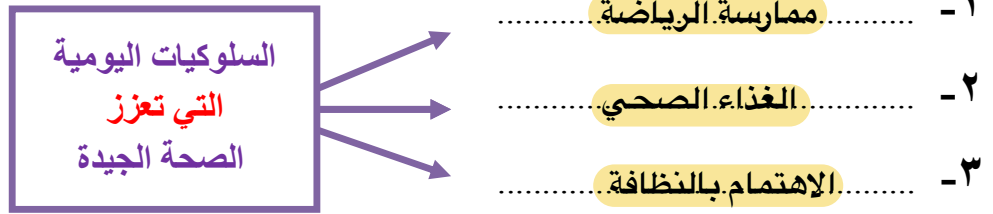
المناعة

العدوى

الفصل الخامس الدرس الأول (المحافظة على الصحة)

التاريخ : / / ١٤٤٤ هـ


أ) نلخص :-



ب) هل العبارات التالية صحيحة أم خاطئة :-

- ١- من العادات غير الصحيحة شرب الماء. (✗)
- ٢- الرياضة تقوي عضلات الجسم. (✓)
- ٣- يحتاج الجسم إلى ٨ ساعات من النوم ليلاً. (✓)

ج) نضع إشارة صح تحت الصورة التي تمثل غذاء صحي ؟



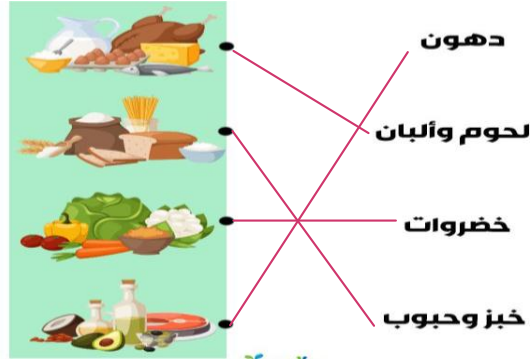
الدرس الثاني (الغذاء والتغذية)

التاريخ : / / ١٤٤٤ هـ

أ) مجموعة المواد الغذائية :-



ب) نصل عناصر الغذاء بالصور المناسبة :-



كيف يكون غذوانا صحياً؟

يجمع بين مجموعات الغذاء الأساسية.....


الوحدة الرابعة (الأرض ومواردها)
الفصل السادس (موارد الأرض)

الفكرة العامة :-

(ما بعض موارد الأرض ؟ وكيف نحافظ عليها)



تقييم الوحدة

ملاحظة			معايير التقييم
			صحة الإجابات
			جمال الخط
			سرعة الإنجاز

ملاحظات المعلم / ة

.....
.....
.....
.....



الدرس الأول (المعادن والصخور)

التاريخ : / / ١٤٤٤ هـ

أ) نكمل العبارة :-

* المسحوق الذي ينتج عن حك المعدن بقطعة خزفية يسمى (**المخدش**)

ب) مثالا لكل من :-

- ١- صخور نارية ← **البازلت**
- ٢- صخور رسوبية ← **الحجر الرملي**
- ٣- صخور متحولة ← **رخام**

ج) هل العبارات التالية صحيحة أم خاطئة :-

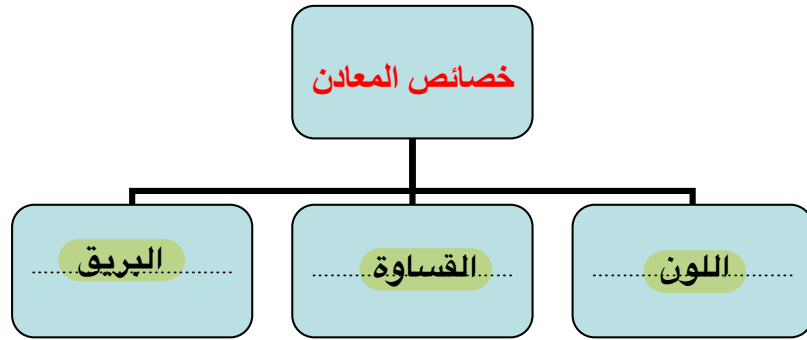
- ١- المعدن هو مادة طبيعية غير حية توجد في قشرة الأرض (..... ✓)
- ٢- الصخور والمعادن من موارد الأرض (..... ✓)





تابع الدرس الأول (المعادن والصخور)

التاريخ : / / ١٤٤٤ هـ



١) الصخور والمعادن من :-

* موارد الأرض

* موارد مصنعة

* مستورد

٢) صخر متحول شائع الاستخدام :-

* الجرانيت

* الرخام

* الفحم

٣) صخر صلب ناري يقاوم التجوية والتعرية :-

* الحجر الجيري

* الألماس

* الجرانيت





الدرس الثاني (الماء)

التاريخ : / / ١٤٤٤ هـ

أ) نختار الإجابة الصحيحة فيما يلي :-

١- يحتوي على كمية كبيرة من الأملاح وغير صالح للشرب .

المطر

البنر

البحر

٢- معظم ماء الأرض يكون عادة في الحالة .

الصلبة

الغازية

الساائلة

٣- المياه التي تتجمع في الفراغات بين الصخور .

الأنهار

الجوفية

العذبة

ب) نضع كل كلمة فيما يلي في المكان المناسب :-

الري

البنر

محطات التنقية

المضخات

١- **البنر** ثقب يحفر في الأرض للوصول للمياه الجوفية .

٢- **المضخات** الآلات تحتاجها الآبار لوصول المياه للسطح .

٣- **الري** عملية توصيل الماء إلى التربة الزراعية .

٤- **محطات التنقية** مكان يستخدم لتقنية الماء والتأكد من سلامته .




الوحدة الخامسة (الفضاء)
الفصل السابع (النظام الشمسي والفضاء)

الفكرة العامة :-

(ما الأجرام السماوية التي توجد في النظام الشمسي ؟)



ملاحظة			معايير التقييم
			صحة الإجابات
			جمال الخط
			سرعة الإنجاز

ملاحظات المعلم / ة

.....
.....
.....
.....



الدرس الأول (الأرض والشمس والقمر)

التاريخ : / / ١٤٤٤ هـ

أ) ما الذي يسبب الليل والنهار :-



..... دوران الأرض حول محورها

ب) نكمل الفراغات بما يناسبها :-

٢٤ ساعة

الأرض

المدار

المحور

- ١- الأرض كوكب يدور حول نفسه
- ٢- المحور خط حقيقي أو وهمي يدور حول الجسم
- ٢- دورة الأرض اليومية تتم في ٢٤ ساعة
- ٤- هو المسار الذي يسلكه الجسم المتحرك حول جسم آخر المدار

؟ 😊 ماذا ينتج عن دوران الأرض حول محورها ؟

..... تعاقب الليل والنهار





تابع الدرس الأول (الأرض والشمس والقمر)

التاريخ : / / ١٤٤٤ هـ

أ) نختار الإجابة الصحيحة فيما يلي :-

١- مدة دوران القمر حول الأرض هي ٢٥ يوم .

خطأ

صح

٢- أطوار القمر هي أشكال ظاهرية للقمر أثناء دورانه حول الأرض .

خطأ

صح

٣- القمر جسم .

مضيء

معتم

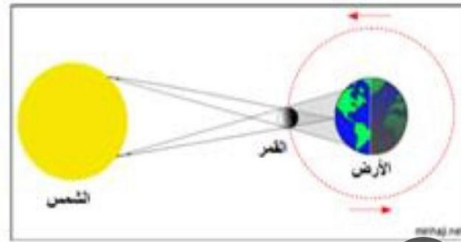
٤- تحدث الفصول الأربعة بسبب .

دوران الأرض
حول الشمس

دوران الأرض
حول محورها

ب) ماذا تمثل الصورة :-

الخسوف
الكسوف





الدرس الثاني (النظام الشمسي)

التاريخ : / / ١٤٤٤ هـ

أ) نصل المجموعة (أ) بما يناسبها من (ب) :-

(أ)		(ب)
١- النظام الشمسي	٣	كتلة كبيرة من الجليد والصخور تدور حول الشمس
٢- الكوكب	١	الشمس وجميع الأجرام التي تدور حولها
٣- المذنب	٢	جرم كروي كبير يدور حول الشمس

ب) نختار الإجابة الصحيحة فيما يلي :-

١- أكبر الكواكب في المجموعة الشمسية .

الأرض

المشتري

٢- تقع في حزام بين المريخ والمشتري .

الكويكبات

الشهب

ما أهمية الشمس؟ 😊

..... ضوء و طاقة حرارية






الدرس الثاني (النظام الشمسي)

التاريخ : / / ١٤٤٤ هـ

أ) نقارن حسب المطلوب :-

الكواكب الغازية	الكواكب الصخرية
١- المشتري / زحل / أورانوس / نبتون	١- عطارد / الزهرة / الأرض / المريخ
٢- تتكون من غازات	٢- تتكون من الصخور


ب) من خلال الصور التالية نستنتج كيف ندرس النظام الشمسي ؟ :-



قمر صناعي



رائد فضاء



تلسكوب



عربة فضائية

